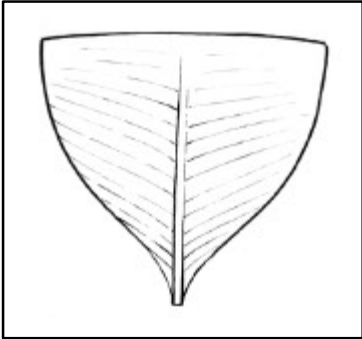


Fiche **DÉFI** : Les goélettes (non-interactive)

Identifier les types de goélettes illustrées ci-dessous et nommer une qualité caractéristique de chacune.

Goélette # 1



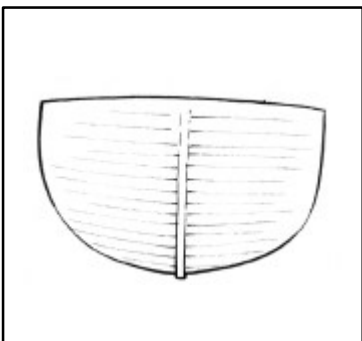
Goélette

Sa quille était profonde et sa proue mince.
Sa voilure était composée de 8 voiles.

Donne une qualité que possédait une telle goélette.

.....
.....

Goélette # 2



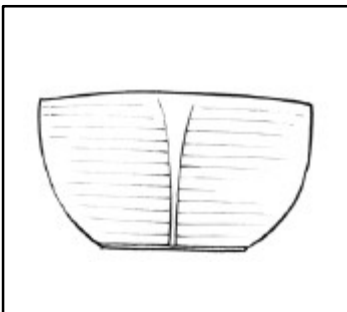
Goélette

Sa quille était peu profonde et son fond était évasé.
Sa voilure était composée de 4 voiles.

Donne une qualité que possédait une telle goélette.

.....
.....

Goélette # 3



Goélette

Sa quille était peu profonde et son fond était plat et large.
Sa voilure était composée de 4 voiles.

Donne une qualité que possédait une telle goélette.

.....
.....